

Prezenta lucrare conține _____ pagini

**EVALUAREA NAȚIONALĂ PENTRU
ABSOLVENȚII CLASEI a VIII-a**

Anul școlar 2023 – 2024

Limba și literatura română

Numele:.....

Inițiala prenumelui tatălui:

Prenumele:.....

Școala de proveniență:

Centrul de examen:

Localitatea:

Județul:

Nume și prenume asistent	Semnătura

A	COMISIA DE EVALUARE	NOTA (CIFRE ȘI LITERE)	NUMELE ȘI PRENUMELE PROFESORULUI	SEMNĂTURA
	EVALUATOR I			
	EVALUATOR II			
	EVALUATOR III			
	EVALUATOR IV			
	NOTA FINALĂ			

B	COMISIA DE EVALUARE	NOTA (CIFRE ȘI LITERE)	NUMELE ȘI PRENUMELE PROFESORULUI	SEMNĂTURA
	EVALUATOR I			
	EVALUATOR II			
	EVALUATOR III			
	EVALUATOR IV			
	NOTA FINALĂ			

C	COMISIA DE EVALUARE	NOTA (CIFRE ȘI LITERE)	NUMELE ȘI PRENUMELE PROFESORULUI	SEMNĂTURA
	EVALUATOR I			
	EVALUATOR II			
	EVALUATOR III			
	EVALUATOR IV			
	NOTA FINALĂ			

- Toate subiectele sunt obligatorii.
- Se acordă zece puncte din oficiu.
- Timpul de lucru efectiv este de două ore.

SUBIECTUL I

(70 de puncte)

Citește fiecare dintre textele de mai jos pentru a putea răspunde la cerințele formulate.

Textul 1

În curte apăruse în zilele următoare un cățel maidanez găsit repede de Sada prin vecine, chiar de la prima întrebare. În vreme ce Octavian era la Atelierele CFR, pierzând, după părerea Corneliei, toată distracția, spălară cățelul la cișmea, îl uscară într-un prosop care rămase al lui și Sada îl pudră apoi cu praf împotriva puricilor.

— Cum pudrez eu plăcintele, observă fetița.

— Să nu pui mâna pe el până mâine! îi pusese Sada în vedere, aplecându-se până sub nasul ei, vârându-i în față degetul arătător pe care-l scutura cu seriozitate, astfel încât Cornelia să înțeleagă că nu era de glumă.

Fetița îl plimbase tot restul zilei prin curtea de la Dunăre, printre cotețele găinilor din spatele casei și pe sub piersicii sălbatici dinspre strada Portului 2, mergând ea înainte și cățelul pe urmele pașilor ei. [...]

Octavian încropi un coteț mare, mai degrabă pentru câinele în care urma să se preschimbe când avea să crească decât pentru mogâldeța aceea cafenie cu șosete albe, nedezlipită de picioarele Corneliei. Cățelul primi numele de Zmeu și două castroane vechi de tablă, unul pentru apă și celălalt pentru mâncare, iar în coteț Cornelia îi strecură un capăt de preș deșirat ca să-i țină de cald și o pereche de șosete vechi de-ale lui Octavian, făcute ghem și legate cu sfoară, ca să aibă cu ce să se joace.

— Bunica Simina a avut odată o iapă pe care o chema Zmeoaica, mi-a povestit despre ea că era iute ca vântul și foarte deșteaptă, explicase Cornelia numele cățelului.

Noaptea, când colțul mahalalei se cufundase în întuneric și era atât de liniște, încât se auzea fâșâitul Dunării, Zmeu începuse să plângă și să schelălăie sfâșietor, cuprins pesemne de frică, de dorul după mama lui ori numai de plictiseală. Cornelia se strecurase din patul înalt și pornise lipăind în picioarele goale afară din odaia ei, străbătuse sufrageria de pe peretele căreia neamurile priveau toată întâmplarea din fotografii înrămate, ieșise în marchiză* și de acolo privise o vreme în inima întunericului, încercând să deslușească silueta cățelului. Nu se zărea nimic.

Fetița merse atunci în odaia Sadei și a lui Octavian, deschizând ușa încetișor și pășind pe vârfuri peste covoarele de iută. De sub plapuma făcută chiar de Sada și învelită în cearșafuri cu colțurile cusuți tot de ea, Octavian sforăia cu bunătațe. Sub privirile neclintite ale Corneliei, Sada tresări deodată și se ridică în capul oaselor, încercând să vadă prin întunericul din odaie.

— Ce-i, mamă? întrebă ea șoptit, descoperind fetița. Ți-e rău?

— Plânge Zmeu, răspunse tot în șoaptă Cornelia.

— Așa fac ei, mamă, când sunt mici. Toți fac așa. Hai să te culci la loc.

— Să-l băgăm în casă, propuse fetița.

— În casă? ezitase Sada, privind spre muntele acoperit cu plapuma.

Pentru că nu putuse culca fata cu niciun chip, Sada își acoperise umerii cu un șal, ieșise afară, cotrobăise îndelung cu mâna prin cotețul prea mare, pentru că Zmeu se speriasse și se ascunsese într-un

colț, și-l trăsesese afară de o ureche. La vederea fetei, Zmeu prinse a da din coada de un deget cu toată puterea bucuriei lui de pui. Sada îi meșteri un loc de dormit într-o cutie veche de carton pe care o așeză în marchiză. A doua zi dimineață, cutia se afla în camera Corneliei, iar pe Zmeu îl alergară mai bine de un ceas prin toată casa, adunând covoarele pe urmele lor, în încercarea de a-l scoate afară, în curte.

Domnia lui Zmeu pe strada Duminicii ținu trei zile. În cea de-a treia, pe când Sada încălzea talpa de călcat rufe pe marginea plitei, cu un munte de cearșafuri și cămăși culese de pe culme alături, fetița o privi cu seriozitate și spuse:

— Ne trebuie o pisică.

— Sada, nu putem aduce măt, spusese Octavian seara, atunci când se întorsese acasă și primise vestea. Tu știi bine că strănut și mi se înroșesc ochii de la măt.

După ce-i rostea numele, Octavian își dregea glasul, iar cuvintele care urmau după această pauză aveau mai multă greutate. Împotrivirea lui nu i se păruse întemeiată Corneliei, așa că în zilele următoare apărură un pisoi găsit de Sada tot prin vecine, iar Octavian își petrecu ani buni strănutând și frecându-și din când în când ochii. Ca să-i răsplătească această generozitate, fetița îl anunță că el era cel care avea să pună numele pisicii.

— Trebuie să se potrivească cu numele lui Zmeu, spusese Cornelia. Ai de ales dintre Aurelia, Cleopatra, Emilia și Iolanda.

— Astea nu sunt nume de mâte, îi răspunsese Octavian cu blândețe.

Simona Antonescu, *În umbra ei*

**marchiză* – încăpere cu numeroase geamuri, așezată la intrarea unei case

Textul 2

Pe Exa mi-au dat-o niște prieteni care s-au trezit cu ea într-o dimineață în fața porții. Au vrut s-o ia la ei, dar cum aveau deja doi câini, n-a fost chip.

Eu aveam doar o pisică. Când a văzut-o pe Exa, Bope s-a înfoiat ca un arici și i-a tras o pereche de gheare peste bot. Exa a fugit chelălăind să-și găsească un cotlon unde să se pitească. Nu era la ea acasă. Cu timpul, cei doi s-au obișnuit unul cu celălalt. Au ajuns adică să considere că celălalt nu există. Uneori se mai încrucișează pe scări și au un scurt moment de ezitare, apoi trec mai departe, fiecare pe drumul lui. Nu m-ar mira dacă la un moment dat ar trece unul printr-altul, ca în filmele cu fantome.

Pofta de citit a Exăi am descoperit-o când am încercat să o scot în lesă la plimbare. Dacă veți vedea vreodată pe stradă un om tras în zigzag de un câine, să știți că acela sunt eu. De cum deschid poarta, Exa își proptește nasul în pământ și o ia din loc, cu mine cu tot. Seamănă întrucâtva cu cercetătorii care scanează terenul cu un detector de metale. Numai că scanează frenetic*, cu schimbări de direcție imprevizibile și cu opriri și porniri la fel de neașteptate. Exa citește marele tom* de mirosuri al străzii [...].

Credeam în schimb că Bope e analfabetă. Asta probabil pentru că m-am lăsat pradă prejudecății că pisicile nu trebuie scoase la plimbare. Pentru Bope strada e oricum împărăția ei. Iese când vrea, revine când vrea. Mușcă – atunci când vrei să o mângâi, de pildă – dar nu latră, așa că trecătorii nu-și fac griji din partea ei. Din când în când, venind către casă, o mai văd hălăduind prin fața porții. O strig, mă privește nedumerită – Cine ești? Ce vrei? – și-mi întoarce spatele, văzându-și mai departe de plictiseala ei.

Și totuși, mai deunăzi, mi-am dat seama că și Bope e cititoare. [...] S-a întâmplat să ies un pic la soare, în curte, și mi-au căzut ochii pe Bope, care își făcea rondul printre răsaduri*. Am rămas fascinat, contemplând-o.

Întâi de toate, pentru că se mișca cu grija unui expert care răsfoiește, cu mânuși în mâini, un manuscris prețios și delicat. Și, probabil, era vorba despre un op scris într-o limbă rară și complicată, pentru că Bope încerca să descifreze textul grădinii cu o lentoare pe care Exa n-ar înțelege-o niciodată. [...]

Hotărât lucru, și Bope citește. Numai că ea, spre deosebire de Exa, e o maestră a relecturii.

Liviu Papadima, „Pisica mea în sala de lectură”, în *Dilema veche* nr. 689/2017

**frenetic* – energic, înflăcărat

**tom* – op, volum

**răsad* – plantă tânără

A.

1. Notează, din textul 1, denumirea a două obiecte din interiorul casei lui Octavian.

2 puncte

2. Scrie în casetă litera corespunzătoare răspunsului corect, valorificând informațiile din textul 1. **2 puncte**

Zmeu primește ca jucărie

- a) două castroane.
- b) niște oase de pluș.
- c) o cutie de carton.
- d) un ghem din șosete.

Răspunsul corect: .

3. Scrie în casetă litera corespunzătoare răspunsului corect, valorificând informațiile din textul 2. **2 puncte**

Când Exa este adusă prima dată acasă, Bope se arată

- a) curioasă.
- b) dușmănoasă.
- c) indiferentă.
- d) prietenoasă.

Răspunsul corect: .

4. Scrie în casetă litera corespunzătoare răspunsului corect, valorificând informațiile din textul 2. **2 puncte**

Exa străbate strada

- a) cu mișcări previzibile și lente.
- b) cu timiditatea unui arici speriat.
- c) foarte liniștită, fără nicio grabă.
- d) mișcându-se brusc, în zigzag.

Răspunsul corect: .

5. Notează „X” în dreptul fiecărui enunț pentru a stabili dacă este adevărat sau fals, bazându-te pe informațiile din cele două texte. **6 puncte**

Textul 1

Enunțul	Adevărat	Fals
Zmeu mănâncă plăcinte pudrate cu zahăr.		
Nimeni nu poate dormi în casă din pricina lui Zmeu, care latră neconținut.		
Cea care aduce acasă puiul de pisică este Sada.		

Textul 2

Enunțul	Adevărat	Fals
Exa este un câine, iar Bope este o pisică.		
Ca să poată împărți același spațiu, Exa și Bope se împrietenesc.		
Exa și Bope cunosc lumea din jurul lor, folosindu-se de simțuri.		

6. Precizează, în unu – trei enunțuri, o trăsătură a personajului Sada, identificată în fragmentul de mai jos, și mijlocul de caracterizare utilizat, ilustrându-l cu o secvență relevantă:

- „— Ce-i, mamă? întrebă ea șoptit, descoperind fetița. Ți-e rău?
- Plânge Zmeu, răspunse tot în șoaptă Cornelia.
- Așa fac ei, mamă, când sunt mici. Toți fac așa. Hai să te culci la loc.
- Să-l băgăm în casă, propuse fetița.
- În casă? ezitase Sada, privind spre muntele acoperit cu plapuma.

Pentru că nu putuse culca fata cu niciun chip, Sada își acoperise umerii cu un șal, ieșise afară, cotrobăise îndelung cu mâna prin cotețul prea mare, pentru că Zmeu se speriasse și se ascunsese într-un colț, și-l trăsese afară de o ureche.”

6 puncte

7. Prezintă, în minimum 30 de cuvinte, un element de conținut comun celor două texte date, valorificând câte o secvență relevantă din fiecare text. **6 puncte**

8. Crezi că există mai multe feluri de a descifra lumea în care trăim? Motivează-ți răspunsul, în 50 – 100 de cuvinte, valorificând textul 2. **6 puncte**

9. Asociază fragmentul din opera literară „În umbra ei” de Simona Antonescu cu un alt text literar studiat la clasă sau citit ca lectură suplimentară, prezentând, în 50 – 100 de cuvinte, o valoare comună, prin referire la câte o secvență relevantă din fiecare text. **6 puncte**

B.

1. Scrie în casetă litera corespunzătoare răspunsului corect. **2 puncte**

În enunțul „În cea de-a treia, pe când Sada încălzea talpa de călcat rufe pe marginea plitei, cu un munte de cearșafuri și cămăși culese de pe culme alături, fetița o privi cu seriozitate” există:

- a) patru diftongi și două hiaturi.
- b) cinci diftongi și un hiat.
- c) șase diftongi și două hiaturi.
- d) șapte diftongi și un hiat.

Răspunsul corect: .

2. Scrie în casetă litera corespunzătoare răspunsului corect. **2 puncte**

Seria care cuprinde doar cuvinte derivate cu sufix diminutival este:

- a) „acasă”, „dinspre”.
- b) „blândețe”, „pisoi”.
- c) „fetița”, „încetșor”.
- d) „găinilor”, „glasul”.

Răspunsul corect: .

3. Scrie în casetă litera corespunzătoare răspunsului corect. **2 puncte**

Cuvintele subliniate în enunțurile: „Pentru Bope strada e oricum împărăția ei” și „Bope încerca să descifreze textul grădinii cu o lentoare pe care Exa n-ar înțelege-o niciodată.” sunt utilizate, în ordine, cu:

- a) sens figurat, sens figurat.
- b) sens figurat, sens propriu.
- c) sens propriu, sens figurat.
- d) sens propriu, sens propriu.

Răspunsul corect: .

4. Scrie în casetă litera corespunzătoare răspunsului corect. **2 puncte**

Sensul secvenței subliniate în enunțul „Bunica Simina a avut odată o iapă pe care o chema Zmeoaica, mi-a povestit despre ea că era iute ca vântul și foarte deșteaptă” este:

- a) înceată.
- b) liniștită.
- c) rapidă.
- d) picantă.

Răspunsul corect: .

5. Scrie forma de perfect simplu a verbelor aflate la timpul mai-mult-ca-perfect din fragmentul următor, păstrând numărul și persoana: „— Sada, nu putem aduce măt, spusese Octavian seara, atunci când se întorsese acasă și primise vestea.” **6 puncte**

Verbul la timpul mai-mult-ca-perfect	Verbul la timpul perfect simplu

6. Alcătuieste un enunț asertiv, în care pronumele demonstrativ de apropiere „aceasta” să aibă funcția sintactică de subiect (1), și un enunț imperativ, în care adverbul de mod „bine” să fie la gradul superlativ absolut de superioritate (2). **6 puncte**

(1)

(2)

7. Construiește câte o frază în care propoziția „cum pudrez eu plăcintele” să fie (1) propoziție subordonată completivă directă și (2) propoziție subordonată atributivă. **6 puncte**

(1)

(2)

8. Transcrie, în spațiile libere, forma corectă a cuvintelor subliniate în următorul enunț, reprezentând mesajul organizatorului unei expoziții. **6 puncte**

Bineînțeles / Bine înțeles (1) că, dacă voi ați reuși / a-ți reuși (2) să faceți câteva fotografii cu niște delfini albaștri / albaștrii (3) care înoată / înnoată (4) în mare, veți putea participa la deschiderea expoziției dedicată / dedicate (5), anul acesta, fintelor / fiintelor (6) necuvântătoare.

_____ (1) că, dacă voi _____ (2) să faceți
câteva fotografii cu niște delfini _____ (3) care _____ (4)
în mare, veți putea participa la deschiderea expoziției _____ (5), anul
acesta, _____ (6) necuvântătoare.

SUBIECTUL AL II-LEA

(20 de puncte)

Scrie, în 100 – 150 de cuvinte, rezumatul textului 1.

Punctajul pentru rezumat se acordă astfel:

- conținutul rezumatului – 12 puncte;
- redactarea rezumatului – 8 puncte (coerența textului – 1 punct; claritatea exprimării ideilor – 1 punct; proprietatea termenilor folosiți – 1 punct; corectitudinea gramaticală – 1 punct; ortografia – 1 punct; respectarea normelor de punctuație – 1 punct; lizibilitatea – 1 punct; încadrarea în limita de cuvinte – 1 punct).

Notă! Rezumatul nu va fi precedat de titlu sau de motto. Punctajul pentru redactare se acordă doar în cazul în care rezumatul are minimum 100 de cuvinte și dezvoltă subiectul propus.

A large rectangular area with rounded corners containing horizontal lines for writing, serving as a response area for the exam.

EVALUAREA NAȚIONALĂ PENTRU ABSOLVENȚII CLASEI A VIII-A
Anul școlar 2023 – 2024
Limba și literatura română
BAREM DE EVALUARE ȘI DE NOTARE

Simulare

- Se punctează orice modalitate de rezolvare corectă a cerințelor.
- Nu se acordă punctaje intermediare, altele decât cele precizate explicit în barem.
- Se acordă zece puncte din oficiu. Punctajul total este de 100 de puncte. Nota finală se calculează prin împărțirea la zece a punctajului total acordat pentru lucrare.

SUBIECTUL I (70 de puncte)

A.

1. Câte 1 punct pentru notarea oricăror două obiecte din interiorul casei lui Octavian (de exemplu: *covor, pat, fotografie, plapumă* etc.) **2 x 1 punct = 2 puncte**

Notă! Nu este necesară formularea răspunsului în enunț.

2. Scrierea literei corespunzătoare răspunsului corect: **d** **2 puncte**
3. Scrierea literei corespunzătoare răspunsului corect: **b** **2 puncte**
4. Scrierea literei corespunzătoare răspunsului corect: **d** **2 puncte**

5. Câte 1 punct pentru fiecare răspuns corect; notarea a două variante de răspuns pentru un enunț – 0 puncte **6 x 1 punct = 6 puncte**

Textul 1

Enunțul	Adevărat	Fals
Zmeu mănâncă plăcinte pudrate cu zahăr.		x
Nimeni nu poate dormi în casă din pricina lui Zmeu, care latră neconținut.		x
Cea care aduce acasă puiul de pisică este Sada.	x	

Textul 2

Enunțul	Adevărat	Fals
Exa este un câine, iar Bope este o pisică.	x	
Ca să poată împărți același spațiu, Exa și Bope se împrietenesc.		x
Exa și Bope cunosc lumea din jurul lor, folosindu-se de simțuri.	x	

6. Precizarea oricărei trăsături identificate în fragmentul dat (de exemplu: *grija/grijulie; răbdarea/răbdătoare; înțelegătoare* etc.) și a mijlocului de caracterizare (de exemplu: *caracterizare indirectă, prin relația cu alte personaje/prin fapte/atitude/comportament* etc.), ilustrat cu o secvență relevantă (de exemplu: „Ce-i, mamă? Întrebă ea șoptit, descoperind fetița. Ți-e rău?” etc.) **6 puncte**

– precizarea trăsăturii – 2 puncte

– precizarea corectă a mijlocului de caracterizare – 1 punct

– ilustrarea mijlocului de caracterizare cu o secvență – 1 punct

– respectarea normelor de punctuație și a ortografiei (0 – 1 greșeli – 1 punct; 2 sau mai multe greșeli – 0 puncte) – 1 punct

– încadrarea în numărul de enunțuri indicat – 1 punct

7. Prezentarea unui element de conținut comun celor două texte (de exemplu: *relația om-animale/prezența animalelor* etc.) **6 puncte**

– precizarea unui element de conținut comun – 2 puncte

– câte 1 punct pentru prezentarea elementului de conținut comun din fiecare text (prezentare adecvată, prin valorificarea unei secvențe relevante din text – 1 punct; încercare de prezentare – 0 puncte) – 2 x 1 punct = 2 puncte

– respectarea normelor de exprimare, de punctuație și a ortografiei (0 – 1 greșeli – 1 punct; 2 sau mai multe greșeli – 0 puncte) – 1 punct

– respectarea numărului minim de cuvinte indicat – 1 punct

Notă! Nu este obligatorie citarea în valorificarea secvențelor.

- 8. Motivarea răspunsului la întrebarea dată** **6 puncte**
- menționarea răspunsului la întrebarea dată – 1 punct
 - motivarea răspunsului menționat (motivare adecvată – 1 punct; încercare de motivare – 0 puncte) – 1 punct
 - valorificarea textului indicat (valorificare adecvată – 2 puncte; încercare de valorificare – 1 punct; lipsa valorificării – 0 puncte) – 2 puncte
 - respectarea normelor de exprimare, de punctuație și a ortografiei (0 – 1 greșeli – 1 punct; 2 sau mai multe greșeli – 0 puncte) – 1 punct
 - încadrarea în numărul de cuvinte indicat – 1 punct

Notă! Nu este obligatorie citarea în valorificarea secvențelor. Nu este necesară formularea unei concluzii sau utilizarea conectorilor de tipul „în primul rând”, „în al doilea rând”, „în concluzie” etc.

- 9. Asocierea fragmentului din opera literară „În umbra ei” de Simona Antonescu cu un alt text literar studiat la clasă sau citit ca lectură suplimentară, prin prezentarea unei valori comune (de exemplu: iubirea părintelui pentru copil; respectul/responsabilitatea față de animale; bunătatea etc.)** **6 puncte**
- numirea unei valori identificate în textul dat – 1 punct
 - precizarea titlului și a autorului unui text literar (din literatura română sau din literatura universală) asociat textului dat, pe baza valorii identificate – 1 punct
 - prezentarea valorii comune, prin referire la câte o secvență relevantă din fiecare text (prezentare adecvată – 2 puncte; încercare de prezentare – 1 punct; lipsa de prezentare – 0 puncte) – 2 puncte
 - respectarea normelor de exprimare, de punctuație și a ortografiei (0 – 1 greșeli – 1 punct; 2 sau mai multe greșeli – 0 puncte) – 1 punct
 - încadrarea în numărul de cuvinte indicat – 1 punct

Notă! Nu este obligatorie citarea în valorificarea secvențelor.

B.

1. Scrierea literei corespunzătoare răspunsului corect: **b** **2 puncte**
2. Scrierea literei corespunzătoare răspunsului corect: **c** **2 puncte**
3. Scrierea literei corespunzătoare răspunsului corect: **c** **2 puncte**
4. Scrierea literei corespunzătoare răspunsului corect: **c** **2 puncte**

- 5. Scrierea formei de perfect simplu a verbelor aflate la timpul mai-mult-ca-perfect din fragmentul dat (*spuse; se întoarce, primi*), cu păstrarea numărului și a persoanei** **6 puncte**
- câte 1 punct pentru selectarea corectă a fiecărui verb la timpul mai-mult-ca-perfect – 3 x 1 punct = 3 puncte
 - câte 1 punct pentru scrierea formei corecte de perfect simplu a verbelor transcrise – 3 x 1 punct = 3 puncte

- 6. Alcătuirea unui enunț asertiv, în care pronumele demonstrativ de apropiere „aceasta” să aibă funcția sintactică de subiect (de exemplu: *Aceasta sosește curând.* etc.) și a unui enunț imperativ, în care adverbul de mod „bine” să fie la gradul superlativ absolut de superioritate (de exemplu: — *Citește, copile, foarte bine textul!* etc.)** **6 puncte**
- câte 1 punct pentru alcătuirea fiecărui tip de enunț cerut – 2 x 1 punct = 2 puncte
 - respectarea funcției sintactice indicate – 1 punct
 - utilizarea adverbului la forma cerută – 1 punct
 - câte 1 punct pentru corectitudinea logică și gramaticală a fiecărui enunț – 2 x 1 punct = 2 puncte

- 7. Construirea a două fraze în care propoziția „cum pudrez eu plăcintele” să fie propoziție subordonată completivă directă (de exemplu: *Știi cum pudrez eu plăcintele./Vreau să știi cum pudrez eu plăcintele.* etc.) și propoziție subordonată atributivă (de exemplu: *Modul cum pudrez eu plăcintele este deosebit./Nu vreau să știi modul cum pudrez eu plăcintele.* etc.)** **6 puncte**
- câte 2 puncte pentru respectarea felului fiecărei propoziții subordonate indicate – 2 x 2 puncte = 4 puncte
 - câte 1 punct pentru corectitudinea logică și gramaticală a fiecărei fraze – 2 x 1 punct = 2 puncte

- 8. Câte 1 punct pentru completarea enunțului cu fiecare formă corectă (*Bineînțeles, ați reuși, albaștri, înnoată, dedicate, ființelor*)** **6 x 1 punct = 6 puncte**

SUBIECTUL AL II-LEA

(20 de puncte)

Conținutul rezumatului – 12 puncte

- formularea ideilor importante, dovedind înțelegerea textului **6 puncte**
 - formularea tuturor ideilor importante, menționarea personajelor, dovedind înțelegerea completă a textului – 6 puncte
 - formularea ideilor importante, cu introducerea unor idei ne semnificative, menționarea personajelor, dovedind înțelegerea completă a textului – 4 puncte
 - formularea ideilor importante, cu introducerea mai multor idei ne semnificative, menționarea selectivă a personajelor, dovedind înțelegerea parțială a textului – 2 puncte
 - formularea unor idei lipsite de relevanță pentru lumea textului, transcrierea unor secvențe din text – 1 punct
- prezentarea evenimentelor în succesiune logică: în totalitate – 2 puncte; parțial – 1 punct; lipsa logicii – 0 puncte **2 puncte**
- respectarea regulilor de alcătuire a unui rezumat **4 puncte**
 - utilizarea persoanei a III-a, transformarea vorbirii directe în vorbire indirectă – 1 punct
 - prezentarea ideilor cu propriile cuvinte, fără utilizarea citatelor – 1 punct
 - utilizarea verbelor la moduri și timpuri adecvate – 1 punct
 - tonul neutru/obiectivitate – 1 punct

Redactarea rezumatului – 8 puncte

- coerența textului: în totalitate – 1 punct; parțial – 0 puncte **1 punct**
- claritatea exprimării ideilor: în totalitate – 1 punct; parțial – 0 puncte **1 punct**
- proprietatea termenilor folosiți: 0 – 1 greșeli – 1 punct; 2 sau mai multe greșeli – 0 puncte **1 punct**
- corectitudinea gramaticală: 0 – 1 greșeli – 1 punct; 2 sau mai multe greșeli – 0 puncte **1 punct**
- ortografia: 0 – 1 greșeli – 1 punct; 2 sau mai multe greșeli – 0 puncte **1 punct**
- respectarea normelor de punctuație: 0 – 2 greșeli – 1 punct; 3 sau mai multe greșeli – 0 puncte **1 punct**
- lizibilitatea **1 punct**
- încadrarea în limita de cuvinte **1 punct**

Notă! Rezumatul nu va fi precedat de titlu sau de motto. Punctajul pentru redactare se acordă doar în cazul în care rezumatul are minimum 100 de cuvinte și dezvoltă subiectul propus.

Prezenta lucrare conține _____ pagini

**EVALUAREA NAȚIONALĂ PENTRU
ABSOLVENȚII CLASEI a VIII-a**

Anul școlar 2023 – 2024

Matematică

Numele:

Inițiala prenumelui tatălui:

Prenumele:

Școala de
proveniență:

Centrul de examen:

Localitatea:

Județul:

Nume și prenume asistent	Semnătura

A	COMISIA DE EVALUARE	NOTA (CIFRE ȘI LITERE)	NUMELE ȘI PRENUMELE PROFESORULUI	SEMNĂTURA
	EVALUATOR I			
	EVALUATOR II			
	EVALUATOR III			
	EVALUATOR IV			
	NOTA FINALĂ			

B	COMISIA DE EVALUARE	NOTA (CIFRE ȘI LITERE)	NUMELE ȘI PRENUMELE PROFESORULUI	SEMNĂTURA
	EVALUATOR I			
	EVALUATOR II			
	EVALUATOR III			
	EVALUATOR IV			
	NOTA FINALĂ			

C	COMISIA DE EVALUARE	NOTA (CIFRE ȘI LITERE)	NUMELE ȘI PRENUMELE PROFESORULUI	SEMNĂTURA
	EVALUATOR I			
	EVALUATOR II			
	EVALUATOR III			
	EVALUATOR IV			
	NOTA FINALĂ			

- Toate subiectele sunt obligatorii.
- Se acordă zece puncte din oficiu.
- Timpul de lucru efectiv este de două ore.

SUBIECTUL I

Încercuiește litera corespunzătoare răspunsului corect.

(30 de puncte)

5p	1. Rezultatul calculului $52 - 2 \cdot (25 - 5)$ este: a) 12 b) 92 c) 100 d) 1000
5p	2. Dacă $\frac{x-2}{5} = \frac{y}{3}$, atunci rezultatul calculului $3x - 5y$ este: a) 0 b) 2 c) 5 d) 6
5p	3. Se consideră mulțimile $A = \{1, 2, 3, 4, 5, 6\}$ și $B = \{0, 2, 4, 6, 8\}$. Intersecția mulțimilor A și B este mulțimea: a) $\{0, 2, 4, 6, 8\}$ b) $\{0, 1, 2, 3, 4, 5, 6, 8\}$ c) $\{2, 4, 6\}$ d) $\{0, 2, 4, 6\}$
5p	4. Mulțimea soluțiilor reale ale inecuației $2x + 2 \geq 4$ este: a) $(-\infty, -1]$ b) $(-\infty, 1]$ c) $[-1, +\infty)$ d) $[1, +\infty)$

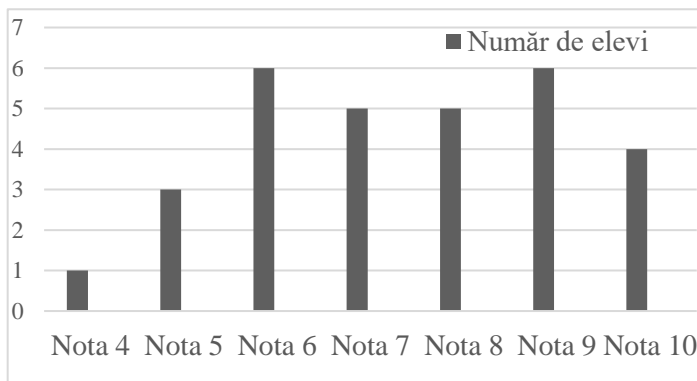
5p 5. Patru elevi, Ana, Ioan, Dana și Vlad determină numărul $a = |2 - 4\sqrt{3}| + 2(\sqrt{12} + 1)$. Rezultatele obținute de cei patru elevi sunt prezentate în tabelul de mai jos:

Ana	Ioan	Dana	Vlad
0	4	$4\sqrt{3}$	$8\sqrt{3}$

Conform informațiilor din tabel, elevul care a determinat corect numărul a este:

- a) Ana
- b) Ioan
- c) Dana
- d) Vlad

5p 6. În diagrama de mai jos sunt prezentate rezultatele obținute de elevii unei clase, la un test de matematică.



Afirmația: „Conform informațiilor din diagramă, jumătate din numărul elevilor acestei clase a obținut la testul de matematică cel puțin nota 8.” este:

- a) adevărată
- b) falsă

SUBIECTUL al II-lea

Încercuiește litera corespunzătoare răspunsului corect.

(30 de puncte)

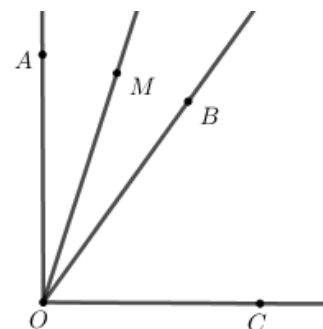
5p 1. În figura alăturată punctele A , B , C și D sunt coliniare, în această ordine, astfel încât $BC = 2AB$, $CD = 2BC$ și $AB = 2\text{cm}$. Punctul M este mijlocul segmentului AB și punctul N este mijlocul segmentului CD . Lungimea segmentului MN este egală cu:

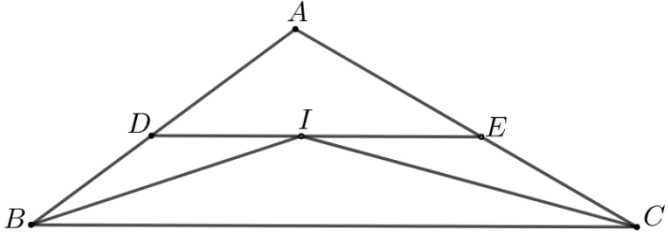
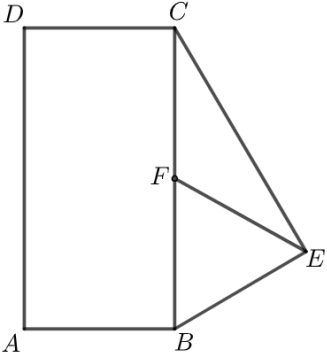
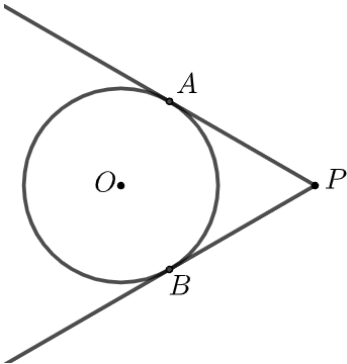
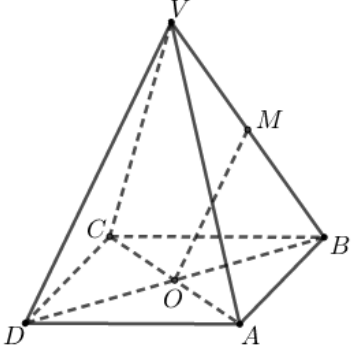
- a) 4 cm
- b) 5 cm
- c) 7 cm
- d) 9 cm



5p 2. În figura alăturată sunt reprezentate unghiurile adiacente complementare AOB și BOC . Semidreapta OM este bisectoarea unghiului AOB și $\sphericalangle BOC = 3 \cdot \sphericalangle AOM$. Măsura unghiului AOB este egală cu:

- a) 18°
- b) 36°
- c) 40°
- d) 54°



<p>5p</p>	<p>3. În figura alăturată este reprezentat triunghiul ABC cu $AB=10\text{cm}$ și $AC=12\text{cm}$. Semidreapta BI este bisectoarea unghiului ABC și semidreapta CI este bisectoarea unghiului ACB. Paralela prin punctul I la dreapta BC intersectează dreptele AB și AC în punctele D, respectiv E. Perimetrul triunghiului ADE este egal cu:</p> <p>a) 11cm b) 20cm c) 22cm d) 24cm</p> 
<p>5p</p>	<p>4. În figura alăturată este reprezentat dreptunghiul $ABCD$, cu $AB=3\sqrt{2}\text{cm}$ și triunghiul BEC dreptunghic în E. Punctul F este mijlocul segmentului BC și $EF=4\text{cm}$. Aria trapezului $AFCD$ este egală cu:</p> <p>a) $6\sqrt{2}\text{cm}^2$ b) $12\sqrt{2}\text{cm}^2$ c) $18\sqrt{2}\text{cm}^2$ d) $24\sqrt{2}\text{cm}^2$</p> 
<p>5p</p>	<p>5. În figura alăturată este reprezentat cercul cu centrul în punctul O și raza egală cu 3 cm. Punctul P este situat la o distanță de 6 cm de centrul cercului. Dreptele PA și PB sunt tangente la cerc în punctele A și B. Măsura arcului mic AB este egală cu:</p> <p>a) 60° b) 90° c) 120° d) 150°</p> 
<p>5p</p>	<p>6. În figura alăturată este reprezentată piramida patrulateră regulată $VABCD$ cu baza $ABCD$, $VA=AB$ și O este punctul de intersecție a dreptelor AC și DB. Dacă punctul M este mijlocul segmentului VB, atunci măsura unghiului dreptelor OM și CD este egală cu:</p> <p>a) 0° b) 30° c) 45° d) 60°</p> 

--	--

5p 3. Se consideră numărul natural \overline{abc} cu a, b, c cifre nenule, unde $a = 5 \cdot \left(\frac{1}{2} + \frac{1}{3} + \frac{1}{6} \right) - \frac{2}{3} : \frac{1}{3}$ și

$$b = (3 \cdot 3^2 \cdot 3^3 \cdot 3^4) : 9^4 - 25^4 : 5^7.$$

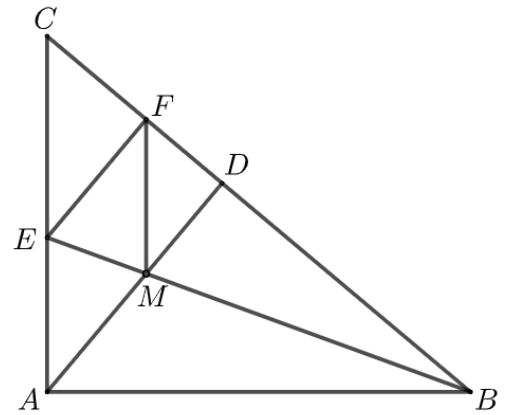

(2p) a) Arată că $a = 3$.

--


(3p) b) Determină numărul \overline{abc} , știind că numerele \overline{ac} și \overline{cb} sunt direct proporționale cu numerele 4 și 3.

--

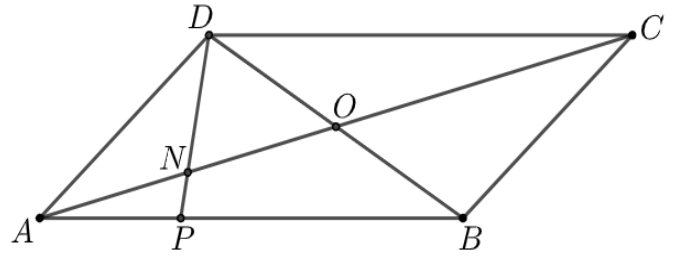

- 5p** 4. În figura alăturată este reprezentat triunghiul dreptunghic ABC , cu $\sphericalangle A = 90^\circ$ și $\sphericalangle B = 40^\circ$. Semidreapta BE este bisectoarea unghiului ABC , punctul E aparține segmentului AC . Perpendiculara din punctul A pe BC intersectează dreapta BC în punctul D , iar perpendiculara din punctul E pe BC intersectează dreapta BC în punctul F . Dreptele BE și AD se intersectează în punctul M .
- (2p) a)** Arată că măsura unghiului EMA este egală cu 70° .




- (3p) b)** Arată că patrulaterul $AMFE$ este romb.



- 5p** 5. În figura alăturată este reprezentat paralelogramul $ABCD$ cu $AB = 15$ cm . Punctul P aparține laturii AB , astfel încât $PB = 2AP$ și O este punctul de intersecție a dreptelor AC și BD .
(2p) a) Arată că lungimea segmentului AP este egală cu 5 cm .

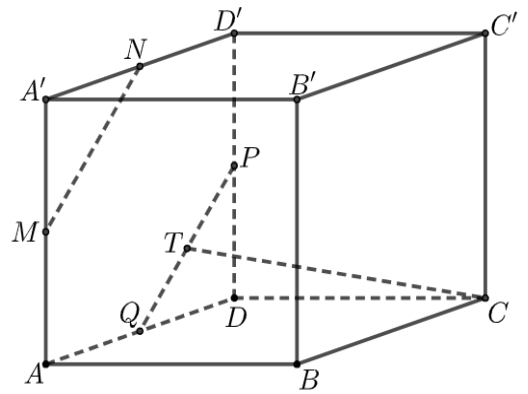



- (3p) b)** Determină raportul dintre aria triunghiului ANP și aria triunghiului DNO , unde N este punctul de intersecție a dreptelor AC și DP .





5p 6. În figura alăturată este reprezentat cubul $ABCA'B'C'D'$. Punctele M , N , P și Q sunt mijloacele segmentelor AA' , $A'D'$, DD' , respectiv AD .

(2p) a) Arată că $MN = PQ$.



(3p) b) Știind că punctul T este mijlocul segmentului PQ , demonstrează că dreapta CT este paralelă cu planul (MNB) .





EVALUAREA NAȚIONALĂ PENTRU ABSOLVENȚII CLASEI a VIII-a
Anul școlar 2023 - 2024
Matematică

Simulare

BAREM DE EVALUARE ȘI DE NOTARE

- Se acordă zece puncte din oficiu. Nota finală se calculează prin împărțirea la zece a punctajului total acordat pentru lucrare.

SUBIECTUL I și SUBIECTUL al II-lea:

- Se punctează doar rezultatul, astfel: pentru fiecare răspuns se acordă fie cinci puncte, fie zero puncte.
- Nu se acordă punctaje intermediare.

SUBIECTUL al III-lea

- Pentru orice soluție corectă, chiar dacă este diferită de cea din barem, se acordă punctajul corespunzător.
- Nu se acordă fracțiuni de punct, dar se pot acorda punctaje intermediare pentru rezolvări parțiale, în limitele punctajului indicat în barem.

SUBIECTUL I

(30 de puncte)

1.	a)	5p
2.	d)	5p
3.	c)	5p
4.	d)	5p
5.	d)	5p
6.	a)	5p

SUBIECTUL al II-lea

(30 de puncte)

1.	d)	5p
2.	b)	5p
3.	c)	5p
4.	c)	5p
5.	c)	5p
6.	d)	5p

SUBIECTUL al III-lea

(30 de puncte)

1.	a) Restul împărțirii lui 53 la 18 este 17	1p
	17 \neq 5, deci Maria nu poate avea în bibliotecă 53 de cărți	1p
	b) $n = 8c_1 + 5 = 12c_2 + 5 = 18c_3 + 5$, unde n este numărul cărților din bibliotecă, iar c_1 , c_2 și c_3 sunt numere naturale	1p
	$n - 5$ este multiplu comun al numerelor 8, 12 și 18, deci $n = 72k + 5$, unde k este număr natural	1p
	Cum n este cel mai mic număr natural de trei cifre cu proprietățile din enunț, obținem $n = 149$	1p
2.	a) $E(0) = (2 \cdot 0 + 3)^2 + (0 - 2)(0 + 2) - 3(1 - 0) + 2 =$ $= 9 - 4 - 3 + 2 = 4$	1p
		1p
	b) $E(n) + 6 = 4n^2 + 12n + 9 + n^2 - 4 - 3 + 3n + 2 + 6 = 5n^2 + 15n + 10$, pentru orice număr natural n $N = 5(n^2 + 3n + 2) = 5(n + 1)(n + 2)$, pentru orice număr natural n Cum $n + 1$ și $n + 2$ sunt numere naturale consecutive, obținem $(n + 1)(n + 2) : 2$, deci $N : 10$	1p
		1p

3.	<p>a) $a = 5 \cdot \left(\frac{3}{6} + \frac{2}{6} + \frac{1}{6} \right) - \frac{2}{3} \cdot \frac{3}{1} =$ $= 5 - 2 = 3$</p>	1p
	<p>b) $\overline{3c}$ și \overline{cb} sunt direct proporționale cu numerele 4 și 3 $\Rightarrow \frac{\overline{3c}}{4} = \frac{\overline{cb}}{3}$</p> <p>$b = 3^{10} : 3^8 - 5^8 : 5^7 = 9 - 5 = 4$</p> <p>$37c = 74 \Rightarrow c = 2$, de unde obținem $\overline{abc} = 342$</p>	1p 1p 1p
4.	<p>a) $\sphericalangle ABE = \sphericalangle EBC = 20^\circ$, deci $\sphericalangle BMD = 70^\circ$</p> <p>$\sphericalangle BMD = \sphericalangle EMA = 70^\circ$</p>	1p 1p
	<p>b) $EF \perp BC$, $AD \perp BC \Rightarrow EF \parallel AD$</p> <p>$\sphericalangle AEB = 70^\circ \Rightarrow \sphericalangle AEM = \sphericalangle EMA \Rightarrow \triangle EAM$ este isoscel, deci $AE = AM$</p> <p>$\triangle EFB \cong \triangle EAB \Rightarrow EF = EA$ și, cum $AM = EA$ și $EF \parallel AM$, obținem că $AMFE$ este romb</p>	1p 1p 1p
5.	<p>a) $AB = 3AP$</p> <p>$3AP = 15$, de unde obținem $AP = 5$ cm</p>	1p 1p
	<p>b) $\triangle ANP \sim \triangle CND \Rightarrow \frac{AN}{CN} = \frac{NP}{ND} = \frac{AP}{CD} = \frac{1}{3}$, deci $AN = \frac{AC}{4}$ și, cum $AO = \frac{AC}{2}$, obținem $AN = NO$</p> <p>$PS \perp AN$, $S \in AN$ și $DV \perp NO$, $V \in NO$ și, cum $\triangle SNP \sim \triangle VND$, obținem $\frac{PS}{DV} = \frac{NP}{ND} = \frac{1}{3}$</p> <p>$\frac{\mathcal{A}_{\triangle ANP}}{\mathcal{A}_{\triangle DNO}} = \frac{\frac{AN \cdot PS}{2}}{\frac{NO \cdot DV}{2}} = \frac{AN}{NO} \cdot \frac{PS}{DV} = \frac{1}{3}$</p>	1p 1p 1p
6.	<p>a) MN este linie mijlocie în triunghiul $AA'D' \Rightarrow MN = \frac{AD'}{2}$</p> <p>$PQ$ este linie mijlocie în triunghiul $ADD' \Rightarrow PQ = \frac{AD'}{2}$, deci $MN = PQ$</p>	1p 1p
	<p>b) $MN \parallel AD'$, $PQ \parallel AD' \Rightarrow MN \parallel PQ$</p> <p>$MPCB$ este paralelogram, deci $MB \parallel PC$ și, cum $MN \cap MB = \{M\}$, $MN, MB \subset (MNB)$,</p> <p>$PQ \cap PC = \{P\}$, $PQ, PC \subset (PQC)$, obținem $(MNB) \parallel (PQC)$</p> <p>$CT \subset (PQC) \Rightarrow CT \parallel (MNB)$</p>	1p 1p 1p